

제 4 교시

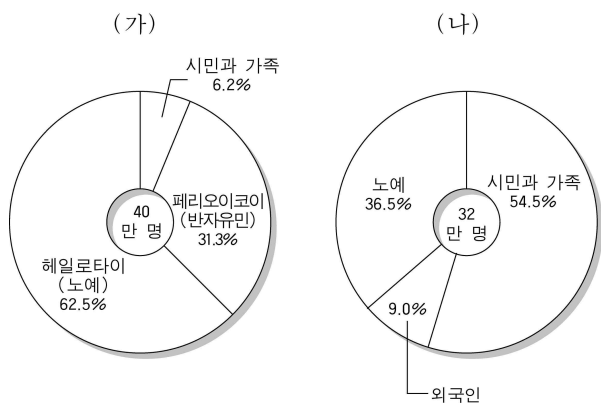
사회 탐구 영역 (세계사)

성명

수험 번호

- 먼저 수험생이 선택한 과목의 문제지인지 확인하시오.
- 선택 과목은 반드시 응시 원서 작성시 자신이 선택한 과목의 문제를 풀어야 합니다.
- 문제지에 성명과 수험 번호를 정확히 기입하시오.
- 답안지에 수험 번호, 선택 과목, 답을 표기할 때는 반드시 '수험생이 지켜야 할 일'에 따라 표기하시오.
- 문항에 따라 배점이 다르니, 각 물음의 끝에 표시된 배점을 참고하시오. 3점 문항에만 점수가 표시되어 있습니다. 점수 표시가 없는 문항은 모두 2점입니다.

1. 다음은 고대 그리스를 대표하는 두 폴리스의 인구 구성이다. 두 폴리스간의 차이점을 바르게 비교한 것은?



- ① (가)는 기술 교육을, (나)는 군사 교육을 중시하였다.
- ② (가)는 남자 노예를 늘렸고, (나)는 줄이고자 하였다.
- ③ (가)에서는 여성의 권리가 낮았고, (나)에서는 높았다.
- ④ (가)는 농업이 중심이었고, (나)는 상공업이 활발하였다.
- ⑤ (가)에서는 중산 계급이 성장하였고, (나)에서는 몰락하였다.

2. 일본에서 다음 시대 상황을 배경으로 대두되었던 주장은? [3점]

일본의 항구에서 일본인과 외국인의 자유롭고 합법적인 무역이 시작되었다. 무역 개시 후 생사(生絲), 차, 해산물 등의 수출품이 해마다 늘었고, 이로 인해 생사와 차 등 상업적 농업이 급속히 발전하였으며 지방 상인의 활동이 활발해졌다. 그러나 수출품은 물론이고 쌀을 비롯한 여러 생필품의 가격이 폭등하여 일반 민중, 특히 빈농과 도시 빈민, 하급 무사의 생활난이 심각하게 되었다. 게다가 일본에서는 국제 시세에 비하여 금이 매우 싸고 은이 비쌌기 때문에 순식간에 금이 대량으로 유출되고 은이 유입되어 물가 상승과 경제 혼란을 가중시켰다.

- ① 대동아 공영권을 형성하자.
- ② 국풍(國風) 문화를 보존하자.
- ③ 난학(蘭學)을 적극적으로 수용하자.
- ④ 천황(天皇)을 받들고 오랑캐를 물리치자.
- ⑤ 산적한 국내 문제를 해결하기 위해 만주를 정복하자.

3. 다음 사실들을 통해 19세기 유럽 사회 모습을 총괄하여 표현한 것은?

- 1820~30년대 라틴 아메리카 여러 나라가 독립하였다.
- 1832년 영국에서 제1차 선거법 개정이 이루어졌다.
- 1834년 프로이센이 주도하여 관세 동맹을 결성하였다.
- 1848년 프랑스에서 2월 혁명으로 7월 왕정이 무너졌다.

- ① 제국주의가 발생하였다.
- ② 민주주의 체제가 확립되었다.
- ③ 자유주의와 민족주의가 시대를 이끌었다.
- ④ 개인적 자유보다 국가적 이익이 우선시되었다.
- ⑤ 전쟁이 국가 문제를 해결하는 중요 수단으로 이용되었다.

4. 다음의 문학 작품이 탄생할 수 있었던 시대적 상황을 적절하게 지적한 것은? [3점]

돌아가리로드,  
전원이 황무(荒蕪)하려는데  
왜 아니 돌아가라.  
.....(중략).....  
좋은 때 사랑하여 외로이 다니고  
때로는 지팡이 꽂아놓고 김매어 준다.  
동쪽 둔덕에 올라 휘파람 시원하게 불고  
맑은 흐름에 나가 시를 짓는다.  
이렇듯 변화타고 인생 다할 때까지 가려거니와  
천명을 즐기는데 또 무엇 의심하라.  
-도연명, 귀거래사-

- ① 잡극과 소설 등의 서민 문화가 화려하게 꽃피었다.
- ② 독창적인 학술과 사상을 주장하는 제자 백가가 등장했다.
- ③ 군신간의 의리와 대의 명분을 중시하는 주자학이 일어났다.
- ④ 세속을 떠나 자유로운 삶을 추구하는 청담 사상이 유행하였다.
- ⑤ 외래 종교인 불교를 배척하는 등 국수주의적 경향을 보였다.

5. 중세 유럽에서 시행된 농법에 관한 설명 그림이다. 이전의 농법에 비해 이 농법이 새로 도입됨으로 초래된 변화를 바르게 제시한 것은? [3점]

연차	1년차	2년차	3년차
경지(A)	춘경지	휴경지	추경지
경지(B)	휴경지	추경지	춘경지
경지(C)	추경지	방목	춘경지

- ① 올리브유와 포도주의 수출이 활발해졌다.
- ② 노동력이 더 필요하여 부역이 증대되었다.
- ③ 농업 노예를 통한 재식 농업이 가능하였다.
- ④ 휴경지가 늘어나서 경작 기술이 퇴보하였다.
- ⑤ 경작 면적이 늘어나서 식량이 증산되었다.

6. 다음 자료는 17~18세기 사상가들의 글이다. 이에 대한 해석으로 바른 것을 <보기>에서 모두 고른 것은? [3점]

(가) 정치 권력이 없는 자연 상태에서 인간은 외롭고 가난하고 더럽고 동물적이며 단명한 존재에 불과하다. …(중략)… 이러한 무정부와 공포, 죽음의 상태에서 벗어나기 위해 강력한 정부가 요구되므로 사람들은 자기 행동의 자유를 지배자의 손에 맡기기 위해 일종의 합의나 계약을 하게 된다.

(나) 자연 상태는 살기에 불편하므로 사람들은 공동 관심사인 사회와 정부를 세우기 위해 계약을 맺게 된다. 그런데 인간은 자연권 즉, 생명, 자유, 재산의 권리를 갖고 있다. …(중략)… 만일 이 정부가 기본권인 생명·자유·재산의 권리를 보장하지 않고 방자해진다면 물러나야 하며, 극단의 경우 혁명에 의해 타도될 수 있다.

(다) 국가 수립의 목적인 공공의 복지에 따라서 국가의 모든 힘을 이끌 수 있는 것은 일반 의지뿐이다. …(중략)… 사회는 이와 같은 공동의 이해 관계를 바탕으로 해서 통치되어야만 한다. 즉, 주권이라는 것은 일반 의지의 행사이므로 결코 남에게 양도될 수 없다.

<보 기>

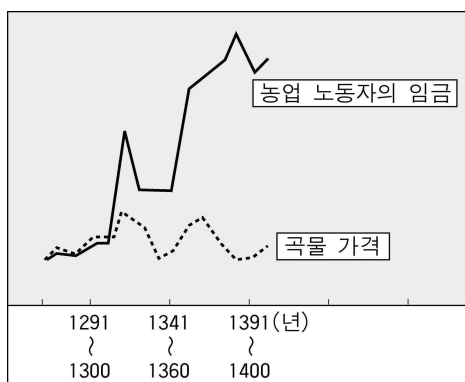
ㄱ. (가)는 절대주의를, (나)는 시민 혁명을 옹호하고 있다.  
 ㄴ. (나)는 입헌 군주제를, (다)는 간접 민주주의를 이상적으로 보고 있다.  
 ㄷ. (가), (나), (다)는 모두 사회 계약설을 주장하고 있다.  
 ㄹ. (가), (나), (다)는 모두 천부 인권설에 바탕을 두고 있다.

- ① ㄱ, ㄴ    ② ㄱ, ㄷ    ③ ㄴ, ㄷ    ④ ㄴ, ㄹ    ⑤ ㄷ, ㄹ

7. 두 자료를 통해서 14세기 해당 지역의 사회·경제 변화를 바르게 추론한 것은? [3점]

<자료 1> 이 질병은 벼룩과 쥐가 옮기는 병으로 사망률이 매우 높았다. 피부에 검은 반점이 생겨 5일 만에 죽는데, 1347~1357년 사이에 유럽인의  $\frac{1}{3}$  이 이 병으로 인해 죽었다.

<자료 2> 영국 어느 지방의 곡물 가격과 임금의 변화



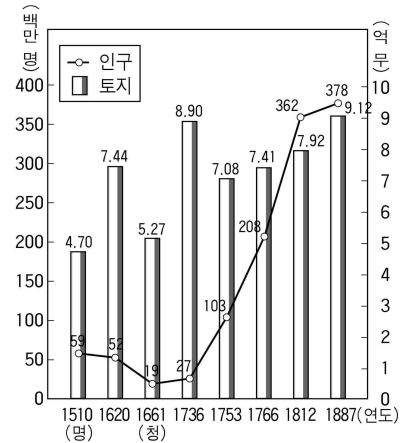
- ① 영주들이 예속을 강화하자 농민 반란이 일어났다.  
 ② 농업 노동자는 소득이 높아져 자본가로 변화하였다.  
 ③ 영주는 농민을 몰아내고 양을 키워 수입을 늘렸다.  
 ④ 곡물 가격이 높아지자 영주는 해외의 곡물을 수입하였다.  
 ⑤ 시민이 도시를 떠나서 농촌에 이주하여 농업 노동자가 되었다.

8. 다음은 중국 (가) 왕조와 (나) 왕조에서 추진된 정책이다. 이들 정책의 공통된 목적으로 가장 적절한 것은?

(가) 왕조	(나) 왕조
○ 만리장성의 축조	○ 부병제의 실시
○ 전국에 걸친 도로망의 건설	○ 남과 북을 잇는 대운하 개설
○ 도량형과 문자의 표준화	○ 과거제의 시행
○ 집권적 관료제와 군현제 실시	○ 집권적 관료제와 주현제 실시

- ① 비단길의 개척                                      ② 빈부 불균형의 시정  
 ③ 분열된 국가의 통합                              ④ 부족한 재원의 확보  
 ⑤ 세습 신분 사회의 확립

9. 다음은 16세기 이후 중국의 인구와 토지의 변천표이다. 이와 관련한 탐구 활동으로 적절하지 않은 것은? [3점]



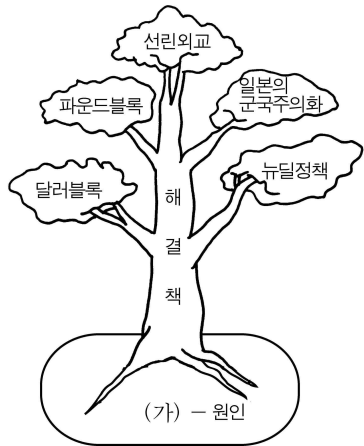
- ① 인구 증가를 가져온 사회·경제적 요인을 찾아본다.  
 ② 인구 증가로 인한 화교의 해외 진출에 대해 알아본다.  
 ③ 지정은제의 도입으로 발생한 경제적 변화상을 알아본다.  
 ④ 농경지의 개간과 새로이 도입된 품종과 작물을 찾아본다.  
 ⑤ 철제 농기구의 사용과 우경의 시작에 관한 자료를 찾아본다.

10. 다음은 일본의 어떤 제도를 설명한 글이다. 이 제도가 실시되던 시대의 역사적 사실에 부합하는 것은?

이 제도는 막부에서 강제로 다이묘와 그 가족들을 반 년 또는 1년씩 수도와 자신의 영지에서 번갈아 거주토록 한 제도이다. 막부는 이 제도를 통해 가족을 인질로 잡아 두고, 다이묘의 재정을 약화시킴으로써 세력이 강화되는 것을 방지하였다. 한편 이 제도를 통해 중앙과 지방간의 문물과 경제 교류가 활발하게 이루어졌다.

- ① 상공업과 도시가 발달하여 상인(조닌) 문화가 발달하였다.  
 ② 중국의 율령 체제를 도입하는 등 집권적 정치 개혁을 추진하였다.  
 ③ 한자의 모양을 따서 만든 가나가 만들어져 고유 문화가 발달했다.  
 ④ 다이묘들은 이 제도에 반발해 막부에 대해 자주 반란을 일으켰다.  
 ⑤ 서양인과는 일체의 교역을 허용하지 않는 쇄국 정책을 실시하였다.

11. 다음은 학생들에게 역사적 개념을 설명하기 위한 그림이다. (가)에 가장 적절한 내용은?



- ① 냉전
- ② 세계화
- ③ 제1차 세계 대전
- ④ 제2차 세계 대전
- ⑤ 세계 경제 공황

12. 다음 사실들을 통해 현대 사회의 문제점을 타당하게 지적한 것은?

- 퀘벡 주의 분리 독립 시도
- 코소보 전쟁
- PLO를 인정할 라빈 수상 암살
- 카슈미르 분쟁

- ① 남북 문제가 심화되고 있다.
- ② 종족과 종교 분쟁이 빈발하고 있다.
- ③ 세계화에 대한 반발이 격화되고 있다.
- ④ 이데올로기 갈등이 새롭게 대두되고 있다.
- ⑤ 무역 분쟁이 국가간 갈등의 주원인이 되고 있다.

13. 평 천국에서 발표한 다음 문서를 통해 태평 천국 운동에 관하여 타당하게 설명한 것을 <보기>에서 모두 고른 것은?

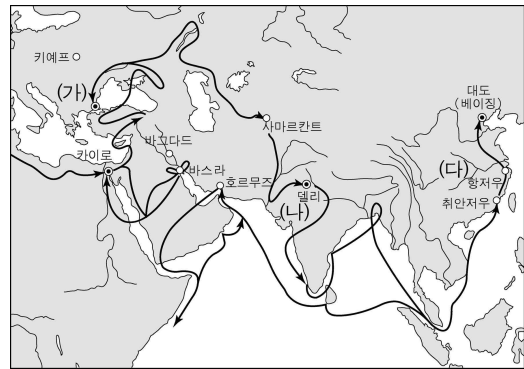
- 요호(妖胡: 만주족)가 중화를 침범한 이래 사람을 유혹하여 귀신을 믿게 함이 점점 더 깊어지고 괴이한 짓을 행함이 점점 더 심해져 사람을 혼미하게 하여 지옥에 떨어뜨려 버렸다.
- 천하의 모든 토지는 천하의 사람들이 함께 경작하는 것이므로 천하의 사람들이 모두 황상제(皇上帝)의 커다란 복을 받아서 토지가 있으면 함께 경작하고 음식이 있으면 함께 먹으며, 옷이 있으면 함께 입고 돈이 있으면 함께 쓰며, 장소에 따라 불균형이 있거나 풍족한 생활을 할 수 없는 자가 없도록 한다.

<보 기>

- ㄱ. 한족(漢族)의 민족 운동으로서의 성격을 띠고 있다.
- ㄴ. 신사층의 지지를 받아 강남 지역에서 세력을 확장하였다.
- ㄷ. 사회·경제적 불평등을 해결하려는 근대 민중 운동이었다.
- ㄹ. 서양 문물의 전래를 막고 전통 가치를 지키려고 하였다.


- ① ㄱ, ㄴ
- ② ㄱ, ㄷ
- ③ ㄴ, ㄷ
- ④ ㄴ, ㄹ
- ⑤ ㄷ, ㄹ

14. 다음의 지도는 14세기에 살았던 이븐 바투타의 여행로이다. 여행 도중 관찰했을 것으로 추론되는 사실은? [3점]



- ① (가)에서 오스만 투르크는 국가의 붕괴를 막기 위하여 탄지 마트라고 불리는 개혁을 추진하였다.
- ② (나)에서는 아우랑제브 황제가 남인도를 정복하여 무굴제국을 인도 역사상 최대 제국으로 발전시켰다.
- ③ (나)에서 (다)로의 여행로에서는 신항로의 개척으로 포르투갈의 식민지가 점차 확대되고 있었다.
- ④ (다)에서는 지역간의 교역이 활발해지면서 화폐 수요가 증가해 지폐가 사용되었다.
- ⑤ (다)에서는 지행합일을 주장하는 양명학과 실용적인 것을 중시하는 실학이 발달하였다.

15. 다음은 어느 시기의 상황을 풍자한 그림과 자료이다. 이 시대의 세계 정세를 파악하기 위한 지도로 가장 적합한 것은? [3점]



우리 식민지 정치가는 대영 제국의 4천만 인구를 피비린내 나는 내란으로부터 지키고, 과잉 인구를 수용하기 위해 새로운 영토를 개척해야 한다.  
- 세실 로즈, 유언집 -

- ①
- ②
- ③
- ④
- ⑤

[16~17] 다음은 중국의 근대화 과정에서 등장한 주장들이다. 물음에 답하시오.

(가) 중국은 외국군보다 수백의 병력을 갖고 있으면서 오랫동안 싸워도 이기지를 못하는데 이것은 총포가 너무 형편없기 때문이라고 생각한다. 만약 무기가 서양과 비슷하게 될 수만 있다면 외국과 대적하는 데 부족함이 없을 것이다.

(나) 좀더 민의를 존중하고 민권을 신장시켜 일반 국민에게도 국민으로서 의무를 지우지 않으면 우수한 기계를 들여와도 잘 운용될 리가 없다. 근대 서양의 의회 정치야말로 군민(君民) 일체와 상하 일심의 정치를 이룩하는 것으로서 중국이 받아들여야 할 제도이다.

(다) 우리는 유교를 버릴 것인가 아니면 공화나 민주(民主)를 버릴 것인가, 어느 한 쪽을 선택하지 않으면 안된다. 민주와 과학의 원리에 근거하여 자유주의와 개인주의를 옹호하고 전통에 대한 통렬한 비판과 재평가를 해야 한다.

16. 위 주장들의 공통점을 적절하게 요약한 것은? [3점]
- ① 민중의 권리를 보장해야 국가가 발전할 수 있다.
  - ② 전통 문화를 보존하는 것이 국력 강화의 핵심이다.
  - ③ 봉건적 신분제를 타파하는 것이 가장 시급한 과제이다.
  - ④ 현재의 위기 극복을 위해 청조를 중심으로 개혁에 노력해야 한다.
  - ⑤ 외세의 침략으로부터 살아남기 위해서는 자강(自強)을 이룩해야 한다.

17. 위 자료와 연관된 수업을 진행하고자 할 때 적절한 탐구 활동이 이루어진 경우를 <보기>에서 모두 고른 것은?

<보 기>

ㄱ. (가) - 중체서용(中體西用)의 개념과 한계를 파악한다.

ㄴ. (나) - 청·일 전쟁이 중국 지식인들에게 끼친 영향을 알아본다.

ㄷ. (나) - 민족주의, 민권주의, 민생주의의 구체적 내용을 정리해 본다.

ㄹ. (다) - 국공합작을 통해 항일 연합 전선을 구축하는 과정을 조사한다.

- ① ㄱ, ㄴ    ② ㄱ, ㄷ    ③ ㄴ, ㄷ    ④ ㄴ, ㄹ    ⑤ ㄷ, ㄹ
18. 다음 구호와 연관이 깊은 중국의 정책은?

검은 고양이[흑묘(黑貓)]이건 흰 고양이[백묘(白貓)]이건 쥐를 잘 잡는 고양이가 좋은 고양이이다.

- ① 홍위병을 앞세워 자본주의적 요소를 일소하려 하였다.
- ② 소련의 평화 공존 정책에 대해 수정주의라고 비판하였다.
- ③ 현대화를 정책 목표로 세우고 개혁과 개방 정책을 추진하였다.
- ④ 중화 인민 공화국을 수립하고 토지 개혁과 기업 국유화를 단행하였다.
- ⑤ 생산력의 증대와 자급 자족적인 경제 체제 확립을 위해 인민 공사를 조직하였다.


19. 두 종교의 전파를 보여주는 연표이다. 1세기에 나타난 현상을 지역별로 바르게 비교한 것은? [3점]

(가) 종교	연도	(나) 종교
베드로와 바울 순교	64	중국에 전래
	67	
신약성서 확정	200	둔황 석굴 축조 시작
밀라노 칙령	313	
니케아 공의회	325	
국교로 지정	366	
	392	

	(가)를 수용한 지역	(나)를 수용한 지역
①	모반의 위험이 있어 교인들을 농노로 삼았다.	신의 가호를 받기 위해 적극 보호하였다.
②	신앙의 자유를 주장하여 재산권을 박탈하였다.	상업을 진흥하기 위해서 장려하였다.
③	황제 숭배를 거부하여 박해하였다.	전통을 중시해 큰 관심을 갖지 않았다.
④	왕정복고를 주장한 신도를 추방시켰다.	교조를 황제보다 우위에 두었다.
⑤	교황이 황제와 국왕을 임명하였다.	구법승의 인도 왕래가 활발하였다.

20. <자료 1>은 르네상스 시기 이탈리아의 정세도이다. 이와 관련하여 <자료 2>와 같은 주장이 나오게 된 동거나 목적으로 적절한 것은?

<자료 1>



<자료 2>

○ 군주는 여우의 교활한 지혜와 사자의 용맹을 겸비해야 한다. 지배자에게 주어진 최고의 의무는 국가의 권력과 안전을 유지하는 것이며, 그 목적을 달성하기 위해 권모술수를 포함한 냉혹한 현실주의 정치 기술이 필요하다.

- ① 직업 정치가의 체계적인 양성
- ② 크리스티교에 대한 반감 표현
- ③ 이슬람의 재침략에 대한 대비
- ④ 절대 왕권과 중상주의의 달성
- ⑤ 분열된 이탈리아의 통일 염원

\* 확인 사항

○ 답안지의 해당란에 필요한 내용을 정확히 기입(표기)했는지 확인하시오.